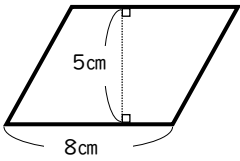


小学校5年生まとめ⑥

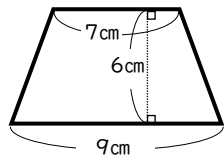
なまえ 名前	
-----------	--

14 つぎ ずけい めんせき もと
次の図形の面積を求めましょう。



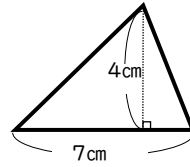
式

答え _____



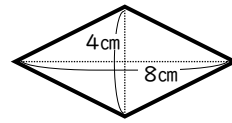
式

答え _____



式

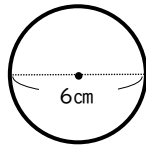
答え _____



式

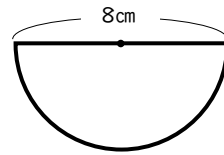
答え _____

15 つぎ ずけい まわ なが もと
次の図形の周りの長さを求めましょう



式

答え _____



式

答え _____

16 つぎ さんかくちゆう てんかいず
次の三角柱の展開図をか
書きましょう。

