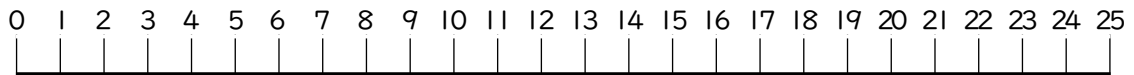


小学校5年生まとめ④

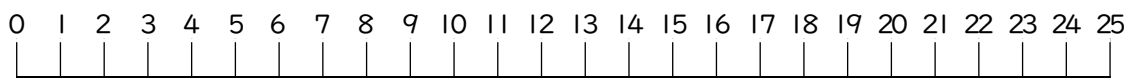
なまえ 名前	
-----------	--

7 した すうちよくせん あ すうじ 下の数直線の当てはまる数字に○をつけましょう。

① ばいすう 3の倍数



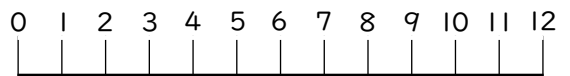
② こうばいすう 3と5の公倍数



③ やくすう 12の約数



④ こうやくすう 8と12の公約数



8 けいさん 計算をしましょう。

① $\frac{1}{2} + \frac{1}{6} =$

② $\frac{2}{3} + \frac{1}{5} =$

③ $\frac{5}{6} - \frac{1}{3} =$

④ $\frac{3}{5} - \frac{1}{4} =$

③ $1\frac{2}{3} + 2\frac{1}{4} =$

③ $3\frac{1}{5} - 1\frac{1}{3} =$

9 した ひょう み こた 下の表を見て答えましょう。

にん この5人のテストの平均点は何点でしょうか。
へいきんてん なんてん

<small>ひと</small> 人	Aさん	Bくん	Cさん	Dくん	Eくん
<small>てんすう</small> 点数(点)	100	90	70	80	90

式

答え _____