

小学校5年生まとめ②

なまえ 名前	
-----------	--

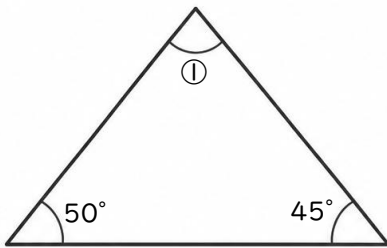
**4** けいさん 計算をしましょう。

①  $1.7 \times 5.2$

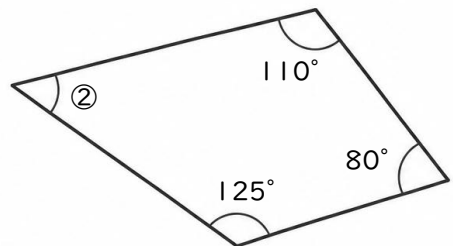

②  $6.21 \times 2.8$


③  $0.14 \times 0.23$

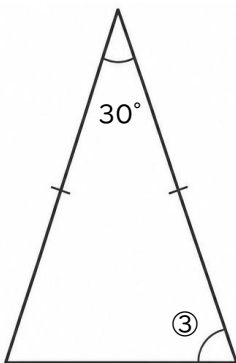

**5** かくど もと 角度を求めましょう。



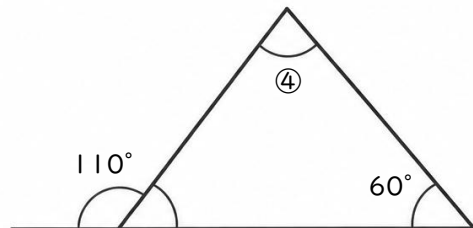
① \_\_\_\_\_



② \_\_\_\_\_



③ \_\_\_\_\_



④ \_\_\_\_\_