

1から5までの数①

なまえ	
-----	--

いくつあるか かぞえて ○にいろをぬりましょう。

□にすうじをかきましょう。

3 lions → 5 circles → empty box

2 lions → 5 circles → empty box

4 lions → 5 circles → empty box

1 lion → 5 circles → empty box


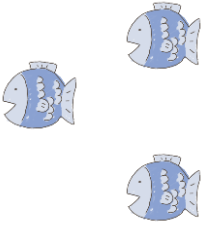


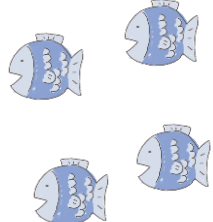
5 lions → 5 circles → empty box

1から5までの数②

なまえ	
-----	--

いくつあるか かぞえて ○にいろをぬりましょう。

□にすうじをかきましょう。
















	●—● ○ ○ ○ ○ ○ ●—●	
	●—● ○ ○ ○ ○ ○ ●—●	
	●—● ○ ○ ○ ○ ○ ●—●	
	●—● ○ ○ ○ ○ ○ ●—●	
	●—● ○ ○ ○ ○ ○ ●—●	

1から5までの数③

なまえ	
-----	--

いくつあるか かぞえて ○にいろをぬりましょう。

□にすうじをかきましょう。






		
		
		
		
		

1から5までの数④

なまえ	
-----	--

いくつあるか かぞえて ○にいろをぬりましょう。

□にすうじをかきましょう。






	●—● ○ ○ ○ ○ ○ ●—●	
	●—● ○ ○ ○ ○ ○ ●—●	
	●—● ○ ○ ○ ○ ○ ●—●	
	●—● ○ ○ ○ ○ ○ ●—●	
	●—● ○ ○ ○ ○ ○ ●—●	

1から5までの数⑤

なまえ	
-----	--

いくつあるか かぞえて ○にいろをぬりましょう。

□にすうじをかきましょう。

	●—● ○ ○ ○ ○ ○ ●—●	□
	●—● ○ ○ ○ ○ ○ ●—●	□
	●—● ○ ○ ○ ○ ○ ●—●	□
	●—● ○ ○ ○ ○ ○ ●—●	□
	●—● ○ ○ ○ ○ ○ ●—●	□